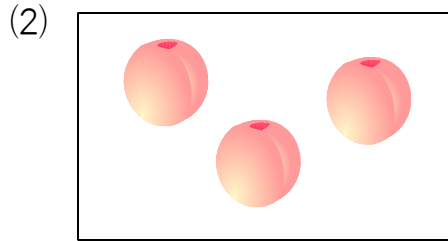




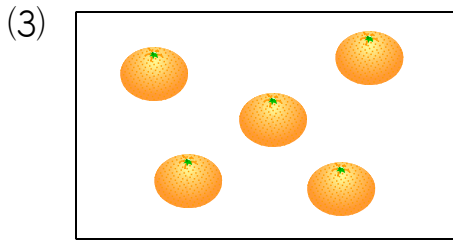
① かずを かぞえよう！

したの ^{かあと}カードに かかれた ^{くだもの}くだもののかずを、すうじで こたえましょう。



こたえ

こたえ

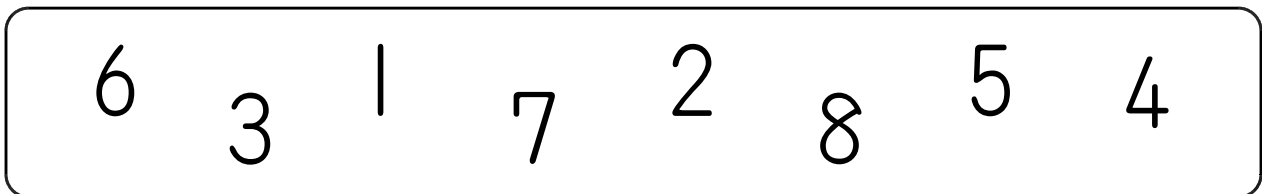


こたえ

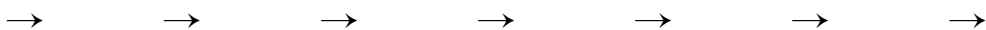
こたえ

② すうじを ならべよう！

したに ある すうじを、ちいさい ほうから じゆんに ならべましょう。

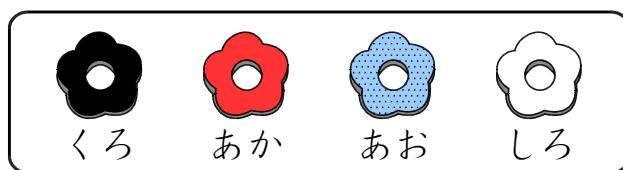


こたえ



3 なんばんめ？

みぎの ずのような 4しよくの おは
じきが あります。これらの おはじきを
したのように よこに 1れつに ならべ
ました。



(1) ひだりから 3ばんめの おはじきの いろは なにいろですか。

こたえ

(2) くろの おはじきは、ひだりから なんばんめと なんばんめに ありますか。

こたえ

(3) しろの おはじきの となりに ある おはじきの いろは、なにいろと なに
いろですか。

こたえ

4 ふたりで わけよう！

8この りんごを けんとかんと ゆうこさんの ふたりで わけます。



(1) けんとかんが りんごを 3こ もらうと、ゆうこさんは なんこの りんごを
もらいますか。

こたえ

(2) りんごを ふたりに おなじ かずずつ わけると、けんとかんは なんこの
りんごを もらいますか。

こたえ

5 おなじ もようは？

まわすと ひだりと おなじ もようになる ものを みぎから えらんで、
と ★を せんで おすびましょう。

○	×
□	○

•

○	□
×	□

•

□	○
□	×

•

○	×
×	○

•

×	○
○	×

★

×	□
○	□

★

×	○
○	□

★

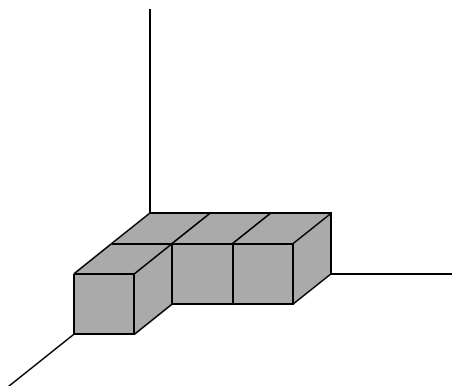
□	×
□	○

★

⑥ つみきの かずは？

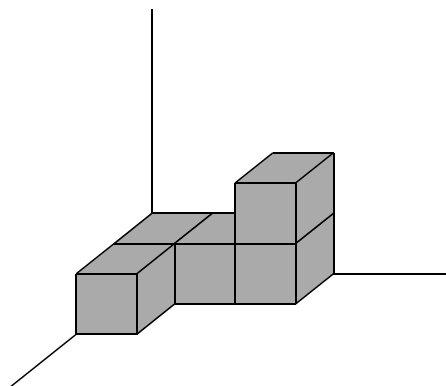
したの ずで、つみきは なんこ ありますか。

(1)



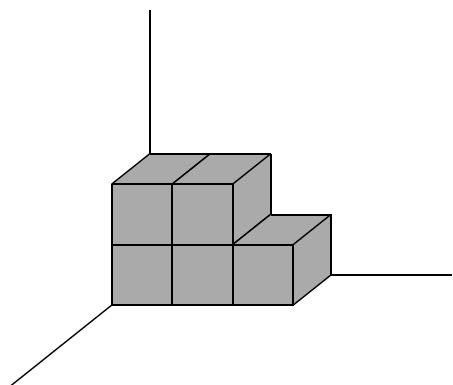
こたえ

(2)



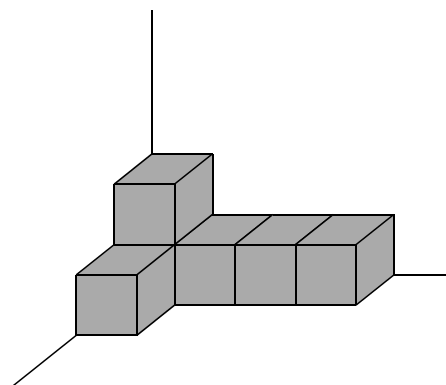
こたえ

(3)



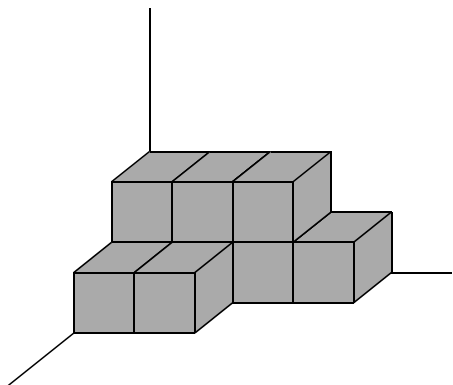
こたえ

(4)



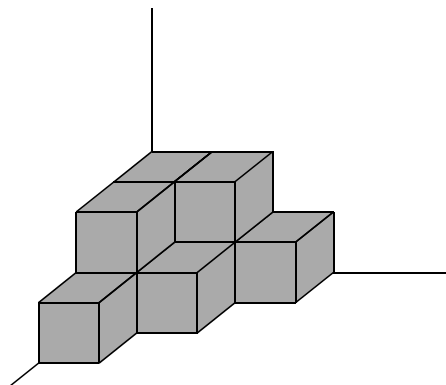
こたえ

(5)



こたえ

(6)



こたえ

チャレンジテスト



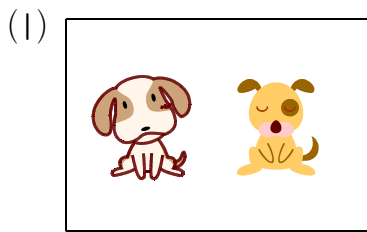
※ こたえは、かいとうようしに かきましょう。

① つぎの 5つの かずを，ちいさい ほうから じゅんに ならべかえましょう。


(1) 5 3 1 4 2

(2) 8 3 7 1 5

② したの ^かカードに ^あかかれた えの かずを，かいとうようしの ()に かきましょう。



③ したのように おはじきを よこ 1れつに ならべました。

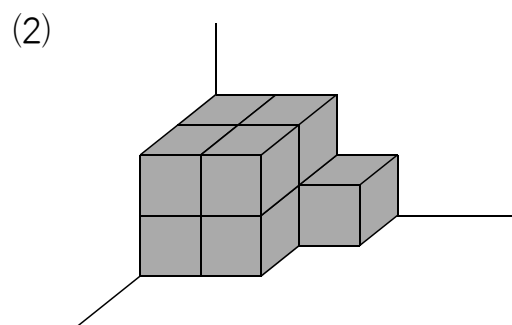
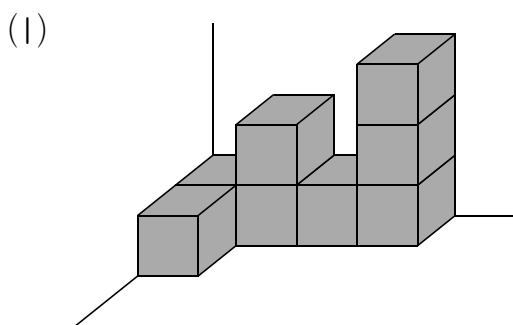


(1) ならんで いる おはじきの かずは なんこ ですか。

(2) しろい おはじきは ひだりから なんばんめに ありますか。

(3) ひだりから 5ばんめの おはじきは，みぎから かぞえると なんばんめに ありますか。

④ したの ずで，つみきは それぞれ なんこ ありますか。



名前 まえ	
----------	--

ぜんこくとういつしやうがくせい
全国統一小学生テスト 1年 さんすう
かいとうようし


とくてん	
------	--


1
10


	ちいさい ほうから じゅんに
(1)	→ → → →

	ちいさい ほうから じゅんに
(2)	→ → → →

2
10

	
(1)	()

	
(2)	()

	
(3)	()

3
10

(1)	こ
-----	---

(2)	ばんめ
-----	-----

(3)	ばんめ
-----	-----

4
10

(1)	こ
-----	---

(2)	こ
-----	---