

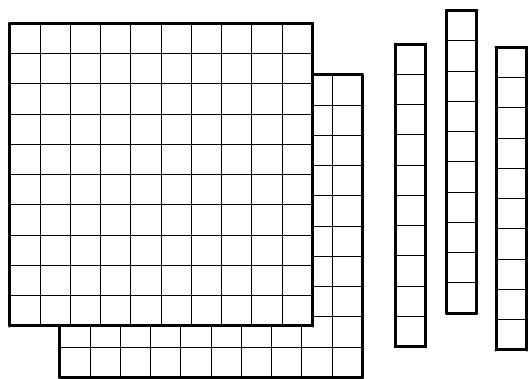
全国統一小学生テスト 対策授業

2年生
算数

① 数のしくみ

問題

○にあてはまる数をかき入れて、タイルの数を数字で書きましょう。



この数はいくつかな？

百のいたが まいで、
 です。
 十のぼうが 本で、
 です。
 一のばらが こで、
 です。

★ この数は

百のくらい	十のくらい	一のくらい
<input type="text"/>	<input type="text"/>	<input type="text"/>

です。

問題

つぎの数を数字とかん字で書きましょう。

① 一のくらいが3，十のくらいが1，百のくらいが8の数。

数字で ， かん字で

② 一のくらいが8，十のくらいが0，百のくらいが4の数。

数字で ， かん字で

問題

いちばん大きな数を○でかこみましょう。

① 712 ・ 721 ・ 127 ・ 271 ・ 217

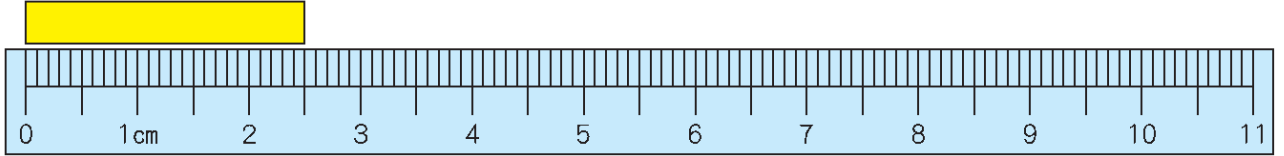
② 801 ・ 810 ・ 809 ・ 908 ・ 109

③ 長さのもんだい

もんだい

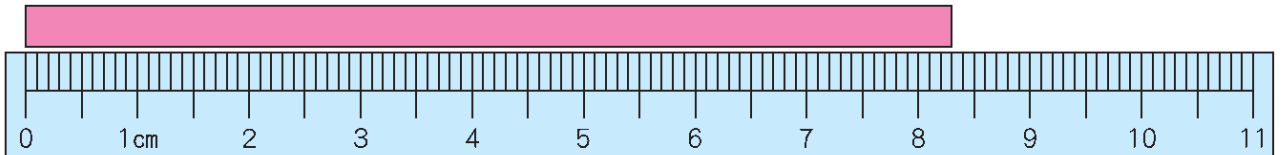
下のリボンの長さを cm と mm の2つのたしをたかってあらわしましょう。

①



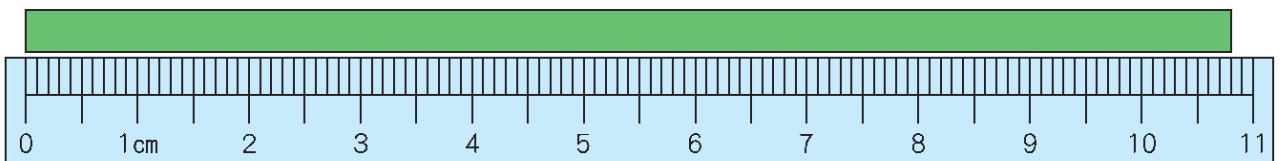
$$\boxed{\text{cm}} \quad \boxed{\text{mm}} = \boxed{\text{cm}} \quad \boxed{\text{mm}}$$

②



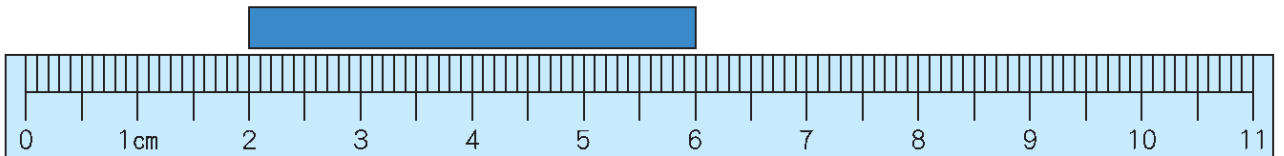
$$\boxed{\text{cm}} \quad \boxed{\text{mm}} = \boxed{\text{cm}} \quad \boxed{\text{mm}}$$

③



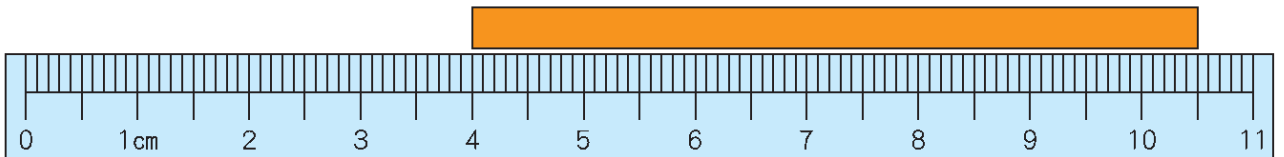
$$\boxed{\text{cm}} \quad \boxed{\text{mm}} = \boxed{\text{cm}} \quad \boxed{\text{mm}}$$

④



$$\boxed{\text{cm}} \quad \boxed{\text{mm}} = \boxed{\text{cm}} \quad \boxed{\text{mm}}$$

⑤



$$\boxed{\text{cm}} \quad \boxed{\text{mm}} = \boxed{\text{cm}} \quad \boxed{\text{mm}}$$

もんだい

2 つぎのもんだいに答えましょう。

- ① 2 cm 9 mmのぼう1本と，5 cm 4 mmのぼう1本をよこにまっすぐにならべました。
はしからはしまでは何cm何mmありますか。

しき

こたえ

cm

mm

- ② ゆうたくんが新しいえんぴつの長さをはかると15 cmありました。けずった後にはかってみると，えんぴつの長さは12 cm 7 mmになっていました。けずった長さは何cm何mmですか。

しき

こたえ

cm

mm

- ③ お母さんのもっているリボンの長さは，さきちゃんより1 cm 8 mmみじかくて，19 cm 6 mmあります。さきちゃんのもっているリボンの長さは何cm何mmありますか。

しき

こたえ

cm

mm

- ④ けんじくんがひいた線の長さをはかってみたところ，10 cmにあと9 mmたりませんでした。けんじくんがひいた線の長さは何cm何mmですか。

しき

こたえ

cm

mm

問題

3 下の計算をmmになおしてやってみよう。

① $3\text{ cm } 8\text{ mm} + 1\text{ cm } 5\text{ mm} =$ mm + mm
 $=$ mm
 $=$ cm mm

ひ算

② $6\text{ cm } 2\text{ mm} + 2\text{ cm } 9\text{ mm} =$ mm + mm
 $=$ mm
 $=$ cm mm

ひ算

③ $4\text{ cm } 4\text{ mm} - 1\text{ cm } 5\text{ mm} =$ mm - mm
 $=$ mm
 $=$ cm mm

ひ算

④ $9\text{ cm } 5\text{ mm} - 7\text{ cm } 7\text{ mm} =$ mm - mm
 $=$ mm
 $=$ cm mm

ひ算

⑤ $8\text{ cm} - 3\text{ cm } 5\text{ mm} =$ mm - mm
 $=$ mm
 $=$ cm mm

ひ算

4 いろいろな文しょうだい

もんたい

1 つぎのもんだいに答えましょう。

- ① 0, 2, 5, 9 の4まいの数字カードのうち3まいをならべてできる3けたの数のうち、いちばん大きな数といちばん小さな数のちがいはいくつですか。

しき

こたえ

- ② みくちゃんは本を、きのうは62ページ、今日は49ページ読んで、1さつの本を読み終えました。この本はぜんぶで何ページありますか。

しき

こたえ

ページ

- ③ としやくんのお父さんは45さいで、お母さんより7さい年上です。としやくんは先週9さいになりました。としやくんとお母さんの年れいのちがいは何さいですか。

しき

こたえ

さい

- ④ こうたくんのちょ金ばこには、100円玉、50円玉、5円玉、1円玉があわせて13まい入っていて、ぜんぶで271円でした。それぞれのお金のまい数は何まいですか。

かんがえかた

100円玉… まい

50円玉… まい

5円玉… まい

こたえ

1円玉… まい