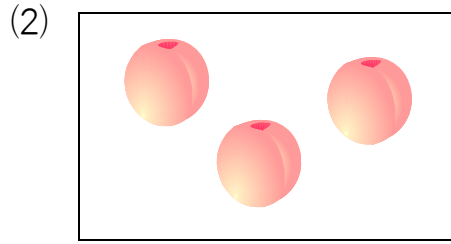



全国統一小学生テスト たいさくじゅぎょう

1ねんせい
さんすう

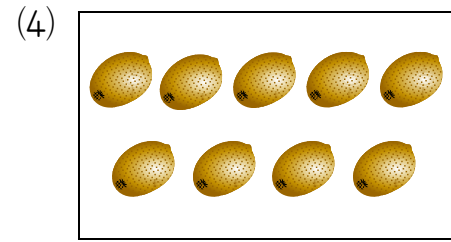
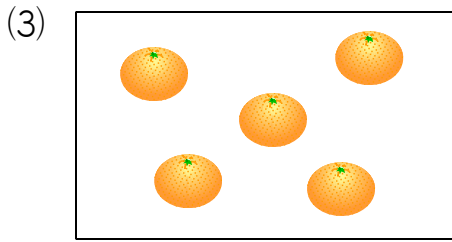
① かずを かぞえよう！

したの かあとカードに かかれた くだものの かずを、すうじで こたえましょう。



こたえ

こたえ



こたえ

こたえ

② すうじを ならべよう！

したに ある すうじを、ちいさい ほうから じゅんに ならべましょう。

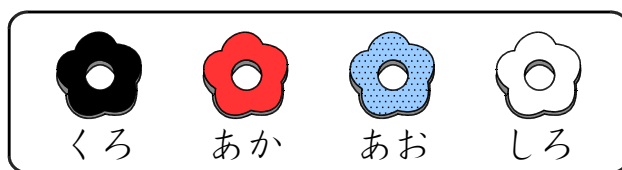
6 3 1 7 2 8 5 4

こたえ

→ → → → → → →

3 なんばんめ？

みぎの ずのような 4しよくの おは
じきが あります。これらの おはじきを
したのように よこに 1れつに ならべ
ました。



(1) ひだりから 3ばんめの おはじきの いろは なにいろですか。

こたえ _____

(2) くろの おはじきは、ひだりから なんばんめと なんばんめに ありますか。

こたえ _____

(3) しろの おはじきの となりに ある おはじきの いろは、なにいろと なに
いろですか。

こたえ _____

4 ふたりで わけよう！

8この りんごを けんとかんと ゆうこさんの ふたりで わけます。



(1) けんとかんが りんごを 3こ もらうと、ゆうこさんは なんこの りんごを
もらいますか。

こたえ _____

(2) りんごを ふたりに おなじ かずずつ わけると、けんとかんは なんこの
りんごを もらいますか。

こたえ _____

5 おなじ もようは？

まわすと ひだりと おなじ もようになる ものを みぎから えらんで、
と ★を せんで おすびましょう。

○	×
□	○
○	□
×	□
□	○
□	×
○	×
×	○

•

•

•

•

×	○
○	×
×	□
○	□
×	○
○	□
□	×
□	○

★

★

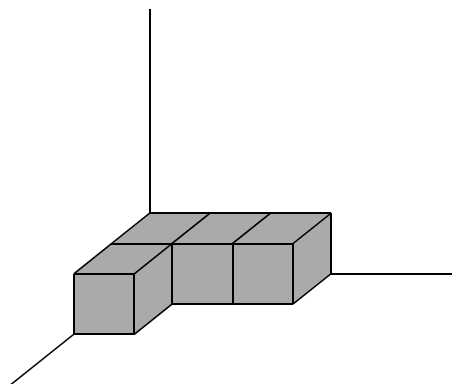
★

★

⑥ つみきの かずは？

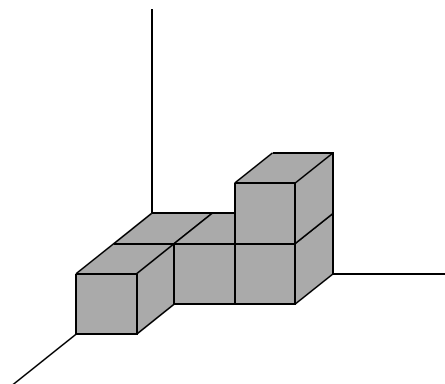
したの ずで，つみきは なんこ ありますか。

(1)



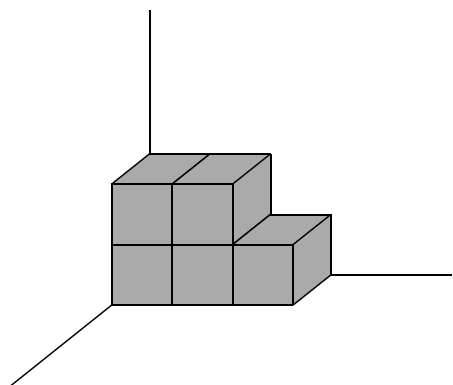
こたえ _____

(2)



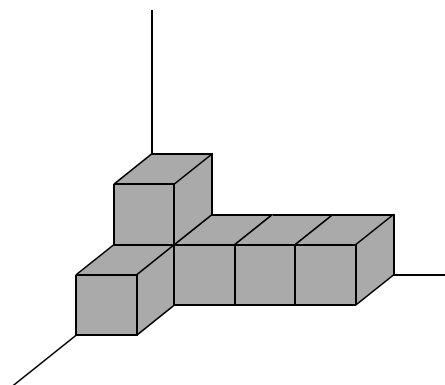
こたえ _____

(3)



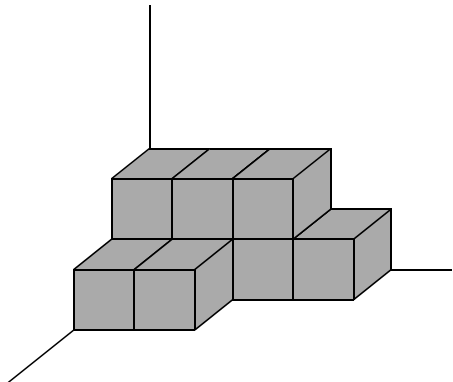
こたえ _____

(4)



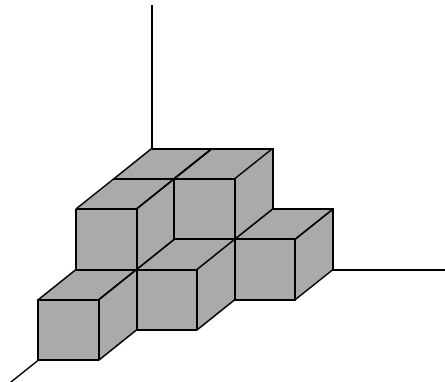
こたえ _____

(5)



こたえ _____

(6)



こたえ _____

チャレンジテスト



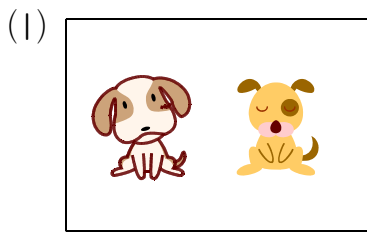
※ こたえは、かいとうようしに かきましょう。

1 つぎの 5つの かずを、ちいさい ほうから じゅんに ならべかえましょう。


(1) 5 3 1 4 2

(2) 8 3 7 1 5

2 したの ^{かあと}カードに かかれた えの かずを、かいとうようしの ()に かきましょう。



3 したのように おはじきを よこ 1れつに ならべました。

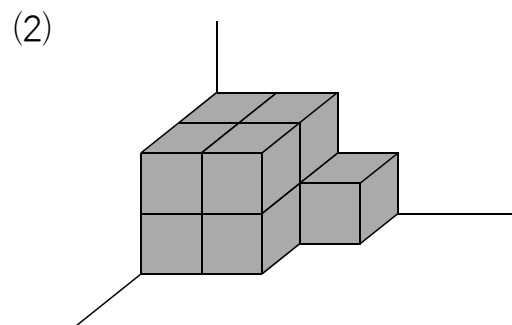
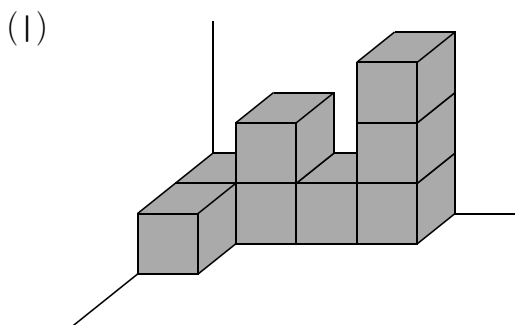


(1) ならんで いる おはじきの かずは なんこ ですか。

(2) しろい おはじきは ひだりから なんばんめに ありますか。

(3) ひだりから 5ばんめの おはじきは、みぎから かぞえると なんばんめに ありますか。

4 したの ずで、つみきは それぞれ なんこ ありますか。



かいとうようし

なまえ	
-----	--

とくてん	
------	--

1


10


(1)	ちいさい ほうから じゅんに
	→ → → →


(2)	ちいさい ほうから じゅんに
	→ → → →

2

10

(1)	
	()

(2)	
	()

(3)	
	()

3

10

(1)	こ
-----	---

(2)	ばんめ
-----	-----

(3)	ばんめ
-----	-----

4

10

(1)	こ
-----	---

(2)	こ
-----	---