

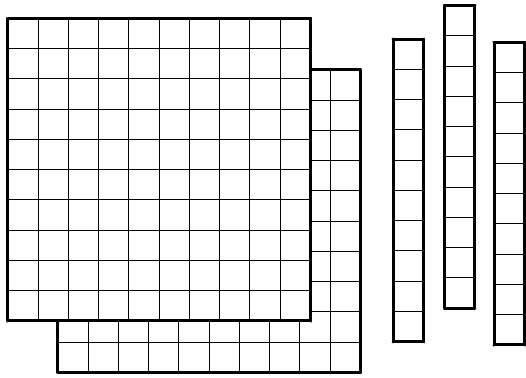
# 全国統一小学生テスト 対策授業

2年生  
算数

## ① 数のしくみ

問題

1  にあてはまる数をかき入れて、タイルの数を数字で書きましょう。



この数はいくつかな？

百のいたが  まいで、  
 です。  
 十のぼうが  本で、  
 です。  
 一のばらが  こで、  
 です。

★ この数は 

百のくらい	十のくらい	一のくらい
<input type="text"/>	<input type="text"/>	<input type="text"/>

 です。

問題

2 つぎの数を数字とかん字で書きましょう。

① 一のくらいが3，十のくらいが1，百のくらいが8の数。

数字で  ， かん字で

② 一のくらいが8，十のくらいが0，百のくらいが4の数。

数字で  ， かん字で

問題

3 いちばん大きな数を○でかこみましょう。






① 712 ・ 721 ・ 127 ・ 271 ・ 217

② 801 ・ 810 ・ 809 ・ 908 ・ 109

## 2 大きな数

ヒント

下のどうぶつたちが持っているカードは、どれですか。どうぶつたちのヒントをよ読んで、まわりにちらばっているカードの中からえらんで  に数を書きましょう。

<p>わたしの カードは ぞうさんよりも 150 大きいよ。</p>  <input type="text"/>	<p>610</p> <p>740</p>	<p>きりんさんの カードより 130 大きくて、カンガルーさんより 200 小さいのが わたしの カードよ。</p>  <input type="text"/>
<p>970</p>	<p>ぼくの カードは 500より 90 小さい かずだよ。</p>  <input type="text"/>	<p>490</p>
<p>わたしの カードは 1000より 小さいわ。</p>  <input type="text"/>	<p>890</p> <p>510</p> <p>940</p>	<p>くまさんの カードは ぼくの カードより 200 小さいよ。</p>  <input type="text"/> <p>410</p>

ヒント

下の3人はそれぞれいくらお金をもっていますか。  に書きましょう。  
また、いちばんたくさん持っている人の☆をぬりましょう。

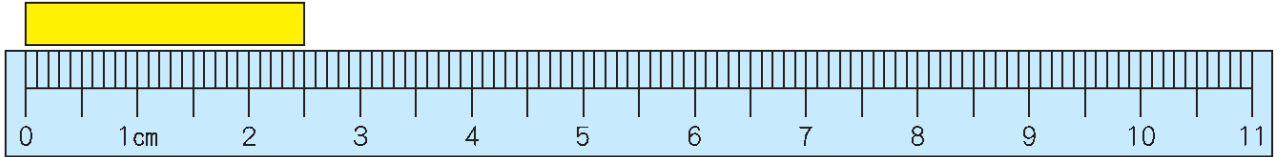
 <input type="text"/> ☆	 <input type="text"/> ☆	 <input type="text"/> ☆
<p>100円, 10円, 5円, 1円</p>	<p>100円, 10円, 5円, 1円</p>	<p>100円, 50円, 10円, 5円, 1円</p>

### ③ 長さのもんだい

もんだい

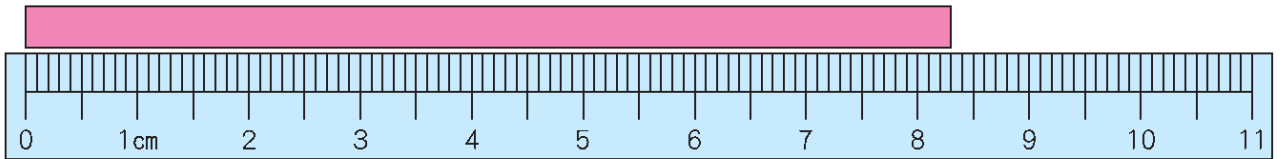
下のリボンの長さを  $\text{cm}$  と  $\text{mm}$  の2つのたしめをつかってあらわしましょう。

①



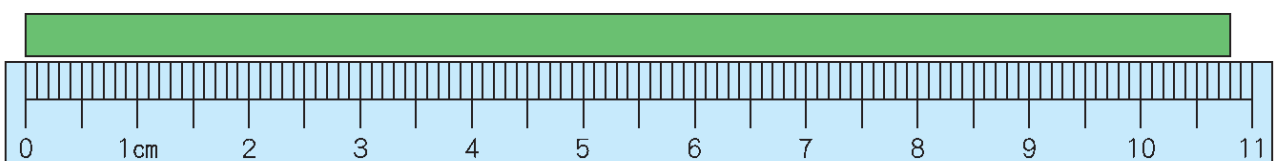
$$\boxed{\text{cm}} \quad \boxed{\text{mm}} = \boxed{\text{cm}} \quad \boxed{\text{mm}}$$

②



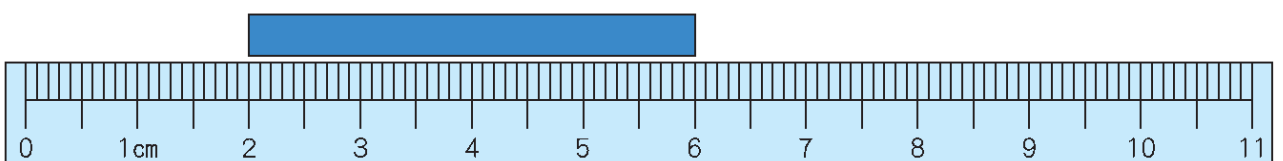
$$\boxed{\text{cm}} \quad \boxed{\text{mm}} = \boxed{\text{cm}} \quad \boxed{\text{mm}}$$

③



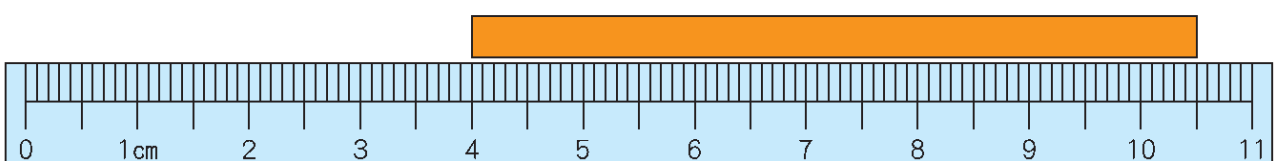
$$\boxed{\text{cm}} \quad \boxed{\text{mm}} = \boxed{\text{cm}} \quad \boxed{\text{mm}}$$

④



$$\boxed{\text{cm}} \quad \boxed{\text{mm}} = \boxed{\text{cm}} \quad \boxed{\text{mm}}$$

⑤



$$\boxed{\text{cm}} \quad \boxed{\text{mm}} = \boxed{\text{cm}} \quad \boxed{\text{mm}}$$

もんだい

2 つぎのもんだいに答えましょう。

- ① 2 cm 9 mmのぼう1本と，5 cm 4 mmのぼう1本をよこにまっすぐにならべました。はしからはしまでは何cm何mmありますか。

しき

こたえ

cm

mm

- ② ゆうたくんが新しいえんぴつの長さをはかると15 cmありました。けずった後にはかってみると，えんぴつの長さは12 cm 7 mmになっていました。けずった長さは何cm何mmですか。

しき

こたえ

cm

mm

- ③ お母さんのもっているリボンの長さは，さきちゃんより1 cm 8 mmみじかくて，19 cm 6 mmあります。さきちゃんのもっているリボンの長さは何cm何mmありますか。

しき

こたえ

cm

mm

- ④ けんじくんがひいた線の長さをはかってみたところ，10 cmにあと9 mmたりませんでした。けんじくんがひいた線の長さは何cm何mmですか。

しき

こたえ

cm

mm

問題

3 下の計算をmmになおしてやってみよう。

①  $3\text{ cm } 8\text{ mm} + 1\text{ cm } 5\text{ mm} =$   mm +  mm  
 $=$   mm  
 $=$   cm  mm

ひ算

②  $6\text{ cm } 2\text{ mm} + 2\text{ cm } 9\text{ mm} =$   mm +  mm  
 $=$   mm  
 $=$   cm  mm

ひ算

③  $4\text{ cm } 4\text{ mm} - 1\text{ cm } 5\text{ mm} =$   mm -  mm  
 $=$   mm  
 $=$   cm  mm

ひ算

④  $9\text{ cm } 5\text{ mm} - 7\text{ cm } 7\text{ mm} =$   mm -  mm  
 $=$   mm  
 $=$   cm  mm

ひ算

⑤  $8\text{ cm} - 3\text{ cm } 5\text{ mm} =$   mm -  mm  
 $=$   mm  
 $=$   cm  mm

ひ算

## 4 いろいろな文しょうだい

もんだい

1 つぎのもんだいに答えましょう。

- ①  $\boxed{0}$ ,  $\boxed{2}$ ,  $\boxed{5}$ ,  $\boxed{9}$  の4まいの数字カードのうち3まいをならべてできる3けたの数のうち、いちばん大きな数といちばん小さな数のちがいはいくつですか。

しき

こたえ

- ② みくちゃんは本を、きのうは62ページ、今日は49ページ読んで、1さつの本を読み終えました。この本はぜんぶで何ページありますか。

しき

こたえ

ページ

- ③ としやくんのお父さんは45さいで、お母さんより7さい年上です。としやくんは先週9さいになりました。としやくんとお母さんの年れいのちがいは何さいですか。

しき

こたえ

さい

- ④ こうたくんのちょ金ばこには、100円玉、50円玉、5円玉、1円玉があわせて13まい入っていて、ぜんぶで271円でした。それぞれのお金のまい数は何まいですか。

かんがえかた

100円玉… まい

50円玉… まい

5円玉… まい

こたえ

1円玉… まい